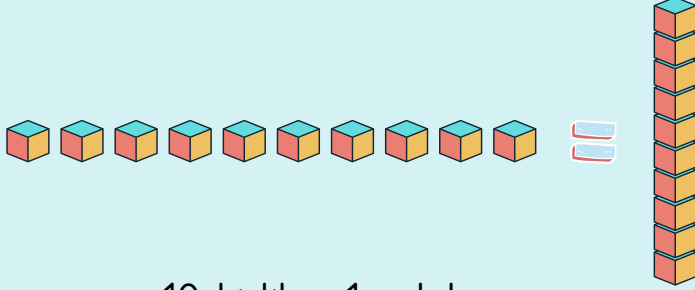



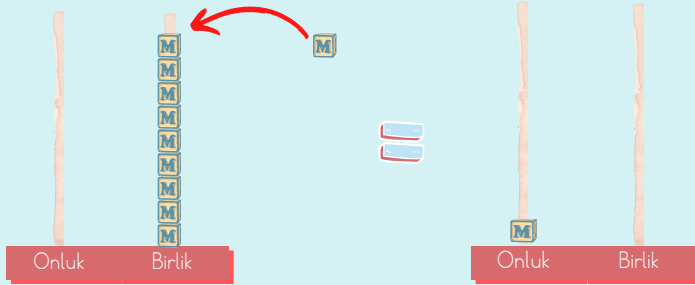
SAYILARI ONLUK VE BİRLİKLERİNE AYIRMA

10 tane birliğin bir araya gelmesiyle 1 onluk oluşur.



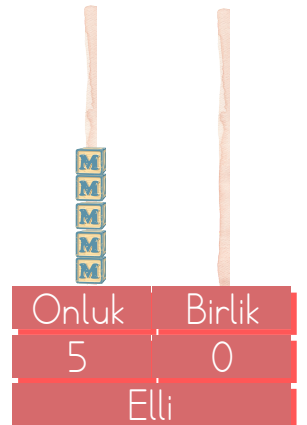
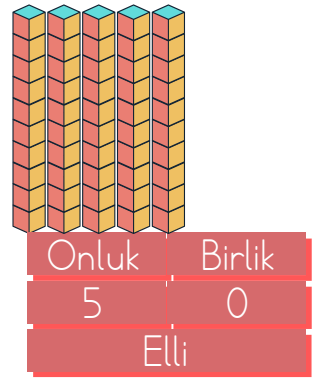
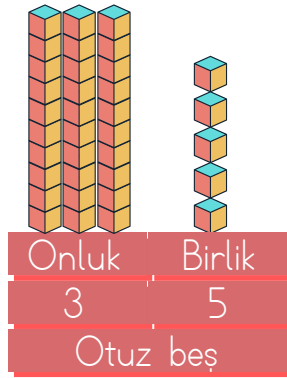
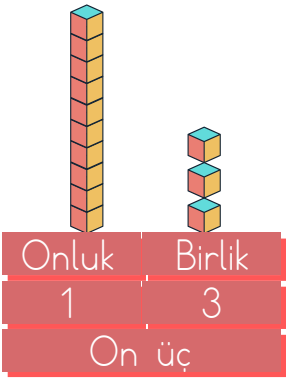
10 birlik = 1 onluk

9 birliğe 1 birlik daha eklersek 1 onluk oluşur.



9 birlik + 1 birlik = 1 onluk

Sayıları onluk taban bloklarıyla veya abaküste modelleyebiliriz.



Aşağıda verilen cümlelerden doğru olanların yanındaki kutucuğu yeşile, yanlış olanların yanındaki kutucuğu kırmızıya boyayınız.



4 onluk ve 8 birlikten oluşan sayı "48"dir.



5 onluk ve 7 birlikten oluşan sayı "57"dir.



8 onluktan oluşan sayı "8"dir.



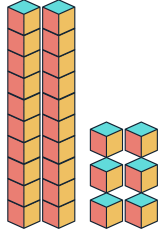
3 birlik 9 onluktan oluşan sayı "39"dur.



7 onluktan oluşan sayı "70"tir.

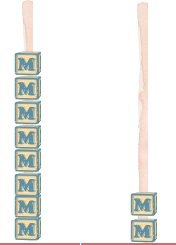
Aşağıdaki soruları dikkatle okuyunuz. Doğru yanıtları işaretleyiniz.

1. Yanda onluk bloklarla modellenen sayı aşağıdakilerden hangisidir?



- A) 26
- B) 36
- C) 23

2. Yanda abaküsle modellenen sayının okunuşu aşağıdakilerden hangisidir?



- A) Yetmiş iki
- B) Seksen iki
- C) Seksen sekiz

Onluk Birlik

3. "90" sayısı ile ilgili aşağıda verilen bilgilerden hangisi doğrudur?

- A) 9 birlikten oluşmaktadır.
- B) "Doksan Dokuz" olarak okunur.
- C) 9 onluktan oluşmaktadır.

4. "Seksen bir" sayısı ile ilgili aşağıda verilen bilgilerden hangisi yanlıştır?

- A) "18" şeklinde yazılır.
- B) 1 onluğu vardır.
- C) 1 birliği vardır.